

ДРТ–2021 г.

Всемирная история (новейшее время)

Вариант содержит 44 задания и состоит из части А (28 заданий) и части В (16 заданий). На выполнение всех заданий отводится 90 минут. Будьте внимательны! Желаем успеха!

Часть А

В каждом задании части А только один из предложенных ответов является верным. В бланке ответов под номером задания поставьте метку (×) в клеточке, соответствующей номеру выбранного Вами ответа.

А1. Первое в истории Великобритании лейбористское правительство возглавил:

- | | | |
|-------------------|---------------------|----------------|
| 1) Р. Макдональд; | 3) Д. Ллойд Джордж; | 5) В. Вильсон. |
| 2) Ф. Рузвельт; | 4) Н. Чемберлен; | |

А2. Укажите правильное утверждение относительно мирового экономического кризиса (1929–1933).

- 1) Теоретической основой «нового курса» в США стало экономическое учение Д. Кейнса и его последователей.
- 2) Общей причиной кризиса в странах Западной Европы стало опережение роста заработной платы рабочих и служащих по сравнению с объемами производства.
- 3) Одним из последствий мирового экономического кризиса для Англии и США был переход к политике «твердого индивидуализма».
- 4) В наименьшей степени кризис поразил экономику Германии и США.
- 5) Руководство Рабочего социалистического интернационала отстаивало тоталитарный вариант выхода из мирового кризиса.

А3. Решение о присоединении Судетской области Чехословакии к Германии было принято в:

- | | |
|-------------|-------------|
| 1) 1923 г.; | 4) 1938 г.; |
| 2) 1926 г.; | 5) 1939 г. |
| 3) 1929 г.; | |

А4. Укажите событие, которое произошло первым среди перечисленных:

- 1) «ночь длинных ножей» в Германии;
- 2) установление фашистской диктатуры в Испании;
- 3) аншлюс Австрии;
- 4) формирование правительства Народного фронта во Франции;
- 5) выход Японии из Лиги Наций.

А5. Автором научного труда под названием «Закат Европы» является немецкий философ:

- | | | |
|--------------|-----------------|---------------|
| 1) Ф. Ницше; | 3) О. Шпенглер; | 5) Э. Ремарк. |
| 2) З. Фрейд; | 4) Т. Манн; | |

А6. Определите последовательность событий в период установления советской власти и во время Гражданской войны в России.

А) принятие первой Конституции РСФСР	1) АБГВ
Б) окончание советско-польской войны	2) БАГВ
В) выход Красной Армии к Тихому океану и взятие Владивостока	3) ВГБА
Г) открытие II Всероссийского съезда Советов	4) ГВБА
	5) ГАБВ

А7. Установите соответствие:

Экономическая политика	Характерная черта
1) политика «военного коммунизма»	а) замена продразверстки продналогом
2) новая экономическая политика	б) привлечение иностранного капитала
	в) создание продовольственных отрядов
	г) разрешение небольших частных предприятий
	д) установление уравнительной государственно-распределительной системы
	е) отмена денежного обращения

1) 1агд; 2бве;

2) 1вд; 2абге;

3) 1бвде; 2аг;

4) 1вгд; 2абге;

5) 1вде; 2абг.

А8. Укажите основные черты советской политической системы в 1930-е гг.

а) постепенный переход к многопартийности	1) а, б, д
б) сращивание партийного и государственного аппарата	2) а, в, г
в) уничтожение политических оппонентов	3) б, в, д
г) усиление роли молодежных организаций в государственном управлении	4) б, г, д
д) господство однопартийной системы	5) в, г, д

А9. П. А. Сорокин, Н. А. Бердяев, Н. О. Лосский – это:

1) ученые-гуманитарии, покинувшие страну в годы Гражданской войны;


2) композиторы, авторы музыки к первым советским кинофильмам;

3) советские писатели 1930-х гг.;

4) советские художники 1920–1930-х гг.;

5) режиссеры первых советских кинофильмов.

А10. Укажите событие, связанное с изображенным на снимке индийским политическим деятелем:



1) Северный поход НРА;

2) соляной поход против английской монополии;

3) «рисовые бунты»;

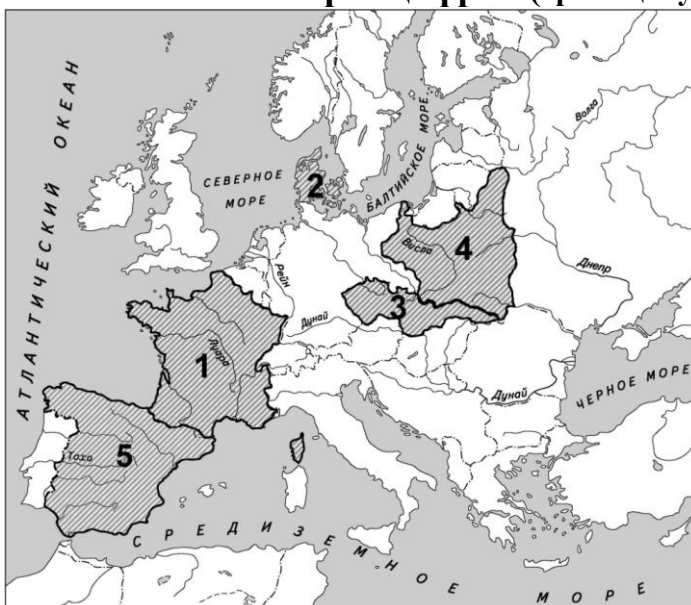
4) принятие «меморандума Танака»;

5) подписание Севрского мирного договора.

A11. Освободительную борьбу турецкого народа в 1919–1923 гг. возглавил генерал:

- 1) Танака Гиити; 3) Чан Кайши; 5) Мао Цзэдун.
2) Коноэ Фумимаро; 4) Мустафа Кемаль;

A12. Основной целью плана гитлеровской Германии «Вайс» был захват государства, территория которого обозначена на карте цифрой (границы указаны на август 1939 г.):



- 1) 1;
2) 2;
3) 3;
4) 4;
5) 5.

A13. В декабре 1940 г. Гитлер подписал план войны с СССР под кодовым названием:

- 1) «Центр»; 3) «Барбаросса»; 5) «Тайфун».
2) «Ост»; 4) «Оверлорд»;

A14. К событиям Второй мировой войны в 1943 г. относится:

- 1) «странная война»;
2) «битва за Англию»;
3) поражение японского флота у острова Мидуэй;
4) открытие второго фронта в Западной Европе;
5) капитуляция немецких и итальянских войск в Тунисе.

A15. Установите соответствие:

А) лейтенант, который за подвиги в борьбе против фашистов на территории Франции посмертно был удостоен звания Героя Советского Союза	1) П. К. Пономаренко
Б) национальный герой Италии, который посмертно был удостоен звания Героя Советского Союза	2) В. В. Порик
В) командир кавалерийской группы, совершившей героический рейд по тылам противника в Смоленской области	3) Ф. А. Полетаев
Г) советский партийный деятель, в годы Великой Отечественной войны возглавлявший Центральный штаб партизанского движения	4) С. А. Ковпак
	5) Н. И. Кузнецов
	6) Л. М. Доватор

- 1) А2Б3В6Г1; 3) А3Б5В2Г1; 5) А6Б4В1Г3.
2) А4Б6В1Г3; 4) А1Б5В3Г2;

A16. Советские войска осуществили прорыв блокады Ленинграда в:

- 1) 1940 г.; 3) 1942 г.; 5) 1944 г.
2) 1941 г.; 4) 1943 г.;

A17. Японская Квантунская армия была разгромлена в результате:

- 1) проведения десантной операции «Оверлорд»;
- 2) действий Китайской освободительной армии;
- 3) осуществления наступательной операции Красной Армии;
- 4) высадки англо-американских войск в Маньчжурии;
- 5) совместных действий советских и американских войск.

A18. Состояние экономики США в период президентства Дж. Буша (старшего) характеризовалось:

- 1) увеличением количества рабочих мест;
- 2) сокращением военных расходов;
- 3) сокращением разрыва в уровне доходов между богатыми и бедными;
- 4) обострением проблемы противостояния Севера и Юга;
- 5) сокращением производства в гражданских отраслях.

A19. Экономическая политика правительства консерваторов в Великобритании в 1951–1964 гг. была направлена на:

- 1) сокращение государственного сектора экономики;
- 2) усиление роли государства в экономике страны;
- 3) национализацию ряда отраслей промышленности, транспорта и связи;
- 4) поддержку малоэффективных, но важных для страны отраслей промышленности;
- 5) проведение национализации Английского банка.

A20. Результатом внешнеполитической деятельности правительства ФРГ в середине 1950-х гг. был(-о; -а):

- 1) выход из военной организации НАТО;
- 2) вступление страны в НАТО;
- 3) поддержка «доктрины Картера»;
- 4) разработка стратегической оборонной инициативы (СОИ);
- 5) подписание Маастрихтского договора.

A21. Конституция Франции 1958 г. в отличие от конституции 1946 г.:

- 1) увеличивала полномочия парламента;
- 2) расширяла власть президента и правительства;
- 3) ограничивала права граждан;
- 4) ограничивала полномочия президента и правительства;
- 5) вводила однопартийную политическую систему.

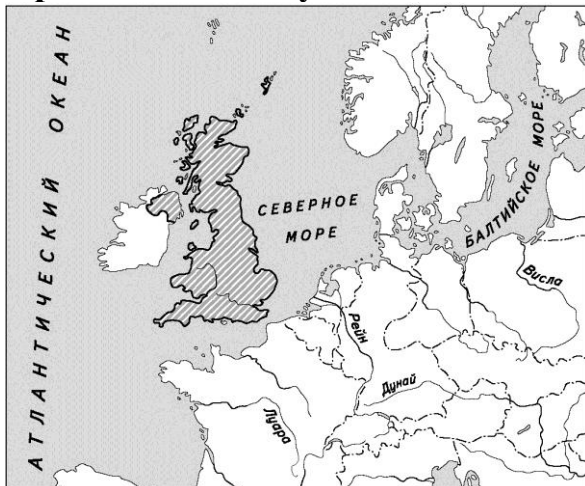
A22. Сущностью политики «исторического компромисса», принятой Итальянской коммунистической партией в 1975 г., было(-а):

- 1) объединение рабочих Севера и Юга в единый профсоюз;
- 2) единство действий коммунистов, социалистов и католиков;
- 3) единство действий с организациями «Красные бригады»;
- 4) активизация сотрудничества с государствами Европейского Союза;
- 5) проведение «новой восточной политики».

A23. Установите последовательность прихода к власти государственных деятелей.

А) Дж. Кеннеди	1) АГБВ
Б) М. Тэтчер	2) БВГА
В) Г. Коль	3) ВБАГ
Г) Ш. де Голль	4) ГАБВ
	5) ГБВА

A24. В государстве, территория которого заштрихована на карте, в первые годы после Второй мировой войны осуществлялась:



- 1) широкая приватизация государственных предприятий;
- 2) «новая восточная политика»;
- 3) национализация ряда отраслей промышленности, транспорта и связи на условиях компенсации владельцам стоимости их собственности;
- 4) радикальная аграрная реформа по выравниванию развития Юга и Севера;
- 5) политика сокращения социальных расходов.

A25. Для общественно-политической жизни СССР в 1945–1953 гг. было характерно:

- 1) проведение выборов на альтернативной основе;
- 2) сохранение строгого контроля со стороны Коммунистической партии;
- 3) начало осуществления десталинизации;
- 4) создание оппозиционных партий;
- 5) начало перехода к многопартийности.

A26. Конституция СССР, которая была принята в 1977 г., зафиксировала:

- 1) переход к новому мышлению во внешней политике;
- 2) построение «победившего социализма»;
- 3) начало перехода к многопартийности;
- 4) отделение церкви от государства и школы от церкви;
- 5) возникновение новой социальной общности – советский народ.

A27. Одним из символов кризиса перестройки в СССР стал(-а):

- 1) вывод советских войск из Афганистана;
- 2) авария на Чернобыльской АЭС;
- 3) концепция «развитого социализма»;
- 4) политика «шоковой терапии»;
- 5) Апрельский пленум ЦК КПСС.

A28. Установите последовательность событий в истории стран Азии, Африки и Латинской Америки во второй половине XX в.

А) провозглашение Исламской Республики Иран	1) АВГБ
Б) возвращение Сянган (Гонконг) в состав КНР	2) АВБГ
В) принятие Закона о независимости Индии	3) БВАГ
Г) создание Движения неприсоединения	4) ВГАБ
	5) ГБВА

Часть В





Ответы, полученные при выполнении заданий части В, запишите в бланке ответов. Каждую букву, цифру пишите в отдельной клеточке (начиная с первой) по образцам, указанным в бланке.

В1. Укажите два решения Парижской мирной конференции (1919–1920).

- 1) Признание независимости Турции;
- 2) признание суверенитета и территориальной целостности Китая;
- 3) признание Германией независимости Польши;
- 4) передача Дании Северного Шлезвига;
- 5) превращение Мемеля (Клайпеда) в «вольный город».

Ответ запишите цифрами (порядок записи цифр не имеет значения). Например: 12.

В2. Установите соответствие:

А)		В)		<ol style="list-style-type: none">1) глава правительства Народного фронта во Франции2) фашистский диктатор Италии3) первый президент Веймарской республики4) президент США, автор политики «нового курса»5) американский инженер, один из основателей автомобильной промышленности в США6) президент США, предложивший программу «14 пунктов»
Б)		Г)		

Ответ запишите в виде сочетания букв и цифр, соблюдая алфавитную последовательность букв левого столбца. Помните, что некоторые данные правого столбца могут не использоваться. Например: А1Б5В6Г4.

В3. Политический союз трех агрессивных государств (1937) получил название «ось (треугольник) ___ (название города) – Рим – Токио».

Ответ запишите словом в форме именительного падежа.

В4. Укажите три события, которые произошли в Советском государстве в 1917–1941 гг.

- 1) Подписание Рапалльского договора России с Германией;
- 2) подписание Договора о нераспространении ядерного оружия;
- 3) принятие первой Конституции РСФСР;
- 4) выборы в Учредительное собрание;
- 5) переход к новому политическому мышлению;
- 6) создание Таможенного союза.

Ответ запишите цифрами (порядок записи цифр не имеет значения). Например: 123.

В5. Государственный план по электрификации России (ГОЭЛРО) был принят в ___ году.

Ответ запишите в виде четырехзначного числа. Например: 1917.

В6. Мирный договор или перемирие, заключенные с противником одним из государств, входящих в коалицию стран, ведущих войну, без ведома или согласия своих союзников, – это ___ мир.

Ответ запишите словом в форме именительного падежа.

В7. Установите последовательность событий в истории Второй мировой и Великой Отечественной войн.

- 1) Начало контрнаступления Красной Армии под Москвой;
- 2) бои за остров Окинава;
- 3) операция «Багратион»;
- 4) подписание Декларации Объединенных Наций в Вашингтоне;
- 5) танковое сражение под Прохоровкой.

Ответ запишите цифрами. Например: 35142.

В8. Установите соответствие:

А) А. О. Балабанов	1) роман «Не хлебом единым»
Б) В. Д. Дудинцев	2) кинофильм «Брестская крепость»
В) А. Т. Твардовский	3) памятник Н. С. Хрущеву
Г) Э. И. Неизвестный	4) поэма «За далью – даль»
	5) кинофильм «Брат»

Ответ запишите в виде сочетания букв и цифр, соблюдая алфавитную последовательность букв левого столбца. Помните, что некоторые данные правого столбца могут не использоваться. Например: А1Б5В2Г4.

В9. Укажите три характерные черты экономического развития России после распада СССР (1991–1993).

- 1) Усиление командно-административной системы управления экономикой;
- 2) ставка на монетаристский метод перехода к рынку;
- 3) ускоренная либерализация;
- 4) приватизация жилья;
- 5) отмена частной собственности на землю;
- 6) национализация промышленности.

Ответ запишите цифрами (порядок записи цифр не имеет значения). Например: 123.

В10. Установите соответствие:

А) запуск первого искусственного спутника Земли	1) И. В. Сталин
Б) принятие Конституции «развитого социализма»	2) Н. С. Хрущев
В) создание Содружества Независимых Государств (СНГ)	3) Л. И. Брежнев
Г) переход к политике гласности	4) Ю. В. Андропов
	5) Б. Н. Ельцин
	6) В. В. Путин
	7) М. С. Горбачев

Ответ запишите в виде сочетания букв и цифр, соблюдая алфавитную последовательность букв левого столбца. Помните, что некоторые данные правого столбца могут не использоваться. Например: А1Б5В7Г4.

В11. Новая Программа Коммунистической партии была принята на XXII съезде КПСС в ___ году.

Ответ запишите в виде четырехзначного числа. Например: 1917.

В12. Укажите *три* характерные черты постиндустриального общества.

- 1) Перераспределение рабочей силы из производственной сферы в сферу услуг;
- 2) определяющая роль промышленности в системе хозяйственной деятельности;
- 3) высокий удельный вес сельского хозяйства во всем производстве;
- 4) внедрение в экономику и жизнь общества новых технологий;
- 5) технологическое разделение труда;
- 6) первостепенное значение науки.

Ответ запишите цифрами (порядок записи цифр не имеет значения). Например: 123.

В13. Правительство социалиста С. Альенде было свергнуто в 1973 г. в ходе военного переворота в ___ (название государства).

Ответ запишите словом в форме именительного падежа.

В14. Установите последовательность событий в истории США и стран Европы во второй половине XX – начале XXI в.

- 1) Признание парламентом Великобритании распада Британской империи;
- 2) террористическая атака исламистов на США;
- 3) провозглашение Италии республикой;
- 4) массовые волнения студентов и служащих во Франции («красный май»);
- 5) падение Берлинской стены.

Ответ запишите цифрами. Например: 35142.

В15. Установите последовательность событий в сфере международных отношений во второй половине XX – начале XXI в.

- 1) Военный конфликт Великобритании и Аргентины из-за Фолклендских (Мальвинских) островов;
- 2) создание Организации Североатлантического договора (НАТО);
- 3) свержение режима С. Хусейна в Ираке;
- 4) начало Корейской войны;
- 5) подписание Парижских соглашений о прекращении войны во Вьетнаме.

Ответ запишите цифрами. Например: 35142.

В16. Запишите название обозначенного на карте государства, значительная часть территории которого в 1996–1997 гг. была захвачена войсками талибов.

Ответ запишите словом в форме именительного падежа.

